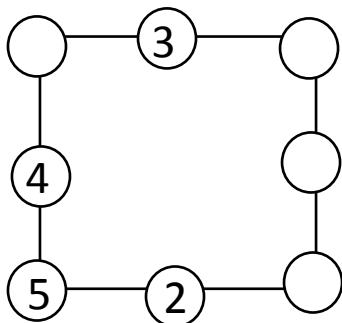


第 2 讲：填填数字

例 1：在下面的○里填上合适的数，使横行、竖行三个数相加的和都等于 16。



练习 1：填数，使横行，竖行的三个数相加的和都等于指定的数。

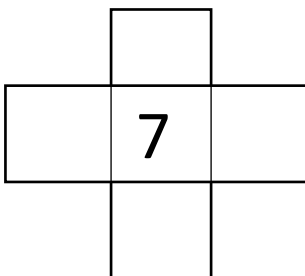
	12	
		11
10		7

20

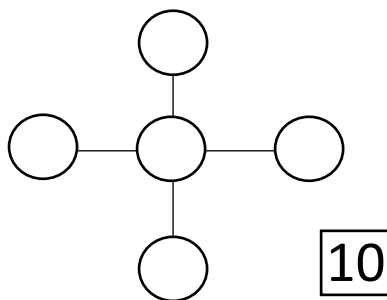
	15	
15	10	
5		

30

例 2：把 1, 2, 3, 4 这四个数填入右图的四个空格中，使横行、竖行三个数相加的和都是 12.



练习 2：把 1, 2, 3, 4, 5 这五个数填入右图的○中，使横行、竖行三个数的和都等于□中的数。



练习 3：把 1, 4, 5, 6 这四个数填进右图空格，使横行、竖行的三个数相加都等于 10.

